



HOÛRSKOOLOOSTERLIG

REKENAARTOEPASSINGTEGNOLOGIE – KWARTAALOPDRAG 8 (Word Hersiening) GRAAD 10

VAKONDERWYSER: Me. L Doble

DATUM: 19 Augustus 2020

HOD/VAKHOOF: Me. C Myburgh


INHANDIGINGSDATUM: 24 Augustus 2020

PUNTETOTAAL: 10 punte

**TOTAAL = ----
10**

Naam & Van: _____ **Klas: 10**_____

Instruksies en inligting

- Maak ASSEBLIEF seker dat jy jou naam EN van voltooi het hierbo. 
- Lees die vraag se instruksies mooi
- Skryf slegs met BLOU pen.
- Geen "tippex" of "highlighters" nie.

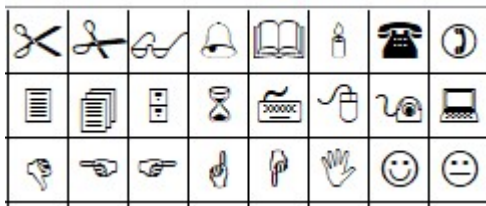
Vraag 1:

1.1 Watter een van die volgende is waar wanneer dit kom by watermerke? (1)

Omkring die korrekte antwoord:

- A. Watermerke kan net 'n sekere grootte wees
- B. Watermerke word soms as 'n vorm van sekuriteit gebruik
- C. Jy kan net teks as 'n watermerk gebruik
- D. Jou watermerk moet altyd swart wees

1.2 Wat is die volgende 'n voorbeeld van: (1)



Omkring die korrekte antwoord:

- A. Shapes
- B. Symbols
- C. Icons
- D. Smartart

1.3 Waarvoor gebruik ons 'n kortpadsleutel soos <Ctrl><V>? (1)



1.4 Hoe plaas mens 'n raam om net 'n enkele woord? (1)

1.5 Wat doen jy om verskillende vorms (shapes) as een te laat vertoon?

(1)

(5)

Vraag 2:

Kolom A	Kolom B	Ant
1.1 Die Word funksie wat gebruik om teks horisontaal, eweredig te spasieer.	A. Left / links	1.1
1.2 Wat word die volgende tipe tabstoppunt posisie genoem? 	B. Waar	1.2
1.3 Wat word die volgende tipe tabstoppunt posisie genoem? 	C. Center / Middel	1.3
1.4 Waar of Onwaar: Jy kan nie 'n tabelstoppunt verander as jy hom eers gestel het nie.	D. Font	1.4
1.5 Watter dialoogboksie moet ons oopmaak/expand om die Tabs knoppie te kry.	E. Decimal / desimaal	1.5
	F. Onwaar	
	G. Tabs	
	H. Gridlines	
	I. Right / regs	
	J. Paragraph	

(5)

[10]