

WISKUNDE GELETTERDHEID

GRAAD 10 – OPDRAG 3



NAAM: _____

VAN: _____

ONDERWYSER KRIPTO : BG / EdT

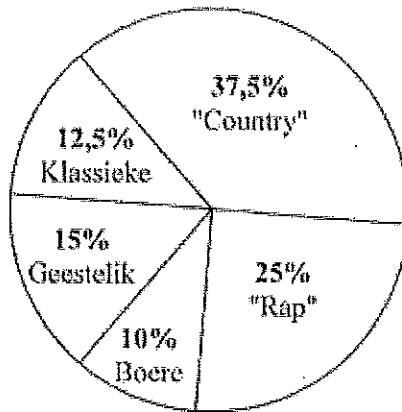
DATUM UITGEGEE: Woesndag 17 Junie 2020

DATUM INGEE: Woensdag 24 Junie 2020

PUNTE 10

Vraag 1: Grafieke

Beantwoord die volgende vrae met behulp van die grafiek wat volg, oor 'n opname wat gemaak is van verskillende musiek smake van Hoërskool Oosterlig se personeel.



4.1 Watter musiek groep is minder populêr onder die onderwysers? (1)

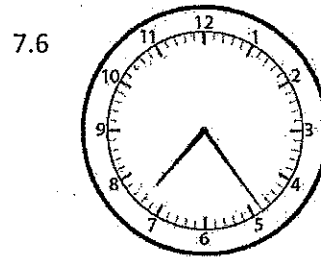
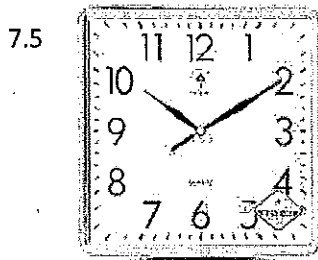
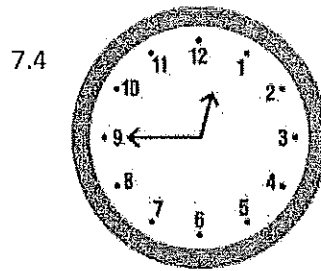
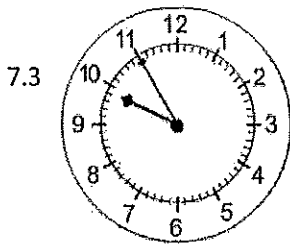
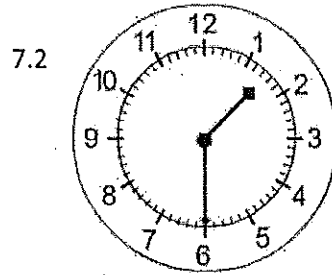
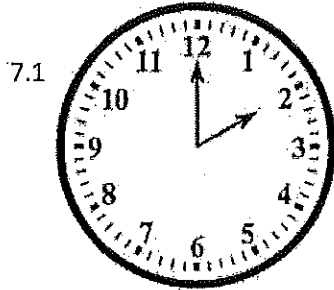
4.2 Watter musiek groep is meer populêr onder die onderwysers? (1)

4.3 As daar 60 onderwysers gebruik is vir die opname, hoeveel verkies Geestelike musiek? (2)

[4]

Vraag 2: Lees en aantekening van tyd

Skryf die volgende horlosies se tyd in digitale vorm neer:



[6]

Totaal: [10]