



Hoërskool Oosterlig

Graad 10 Geografie : Vorderingverslag Opdrag 3

Moderator: Mnr Bradford

Eksaminatrise: Me. S. HERMAN

Datum ontvang: 17 Junie 2020

Inhandigings datum: 24 Junie 2020

Vakonderwyser: Me S. HERMAN

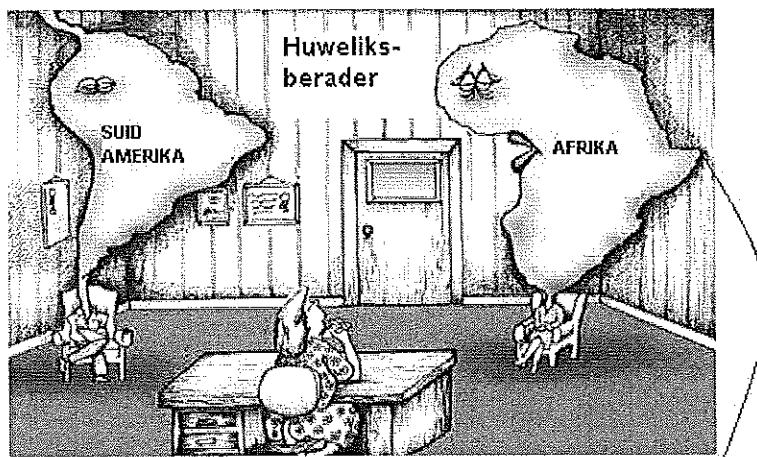
NAAM:

Instruksies:

1. Beantwoord alle vrae op hierdie papier asseblief.
2. Werk Netjies
3. Bronne : Handboek bladsy 98 tot 101 asook Werkkaart 3 en 4

25

1. Bestudeer die spotprent hieronder en beantwoord die vrae wat volg.







Ek het eers die afgelope 50 miljoen jaar besef ons is besig om uitmekaar te dryf.

1.1	Wie het die teorie geformuleer wat in die diagram getoon word?	(1)
1.2	Sowat 200 miljoen jaar gelede was vandag se kontinente vas aan mekaar as een groot kontinent. Watter naam is aan hierdie kontinent gegee?	(1)
1.3	Sowat 135 miljoen jaar gelede het hierdie groot kontinent in twee kontinente opgebreek. Op watter een van hierdie kontinente sal die moderne kontinente in die spotprent gevind word?	(1)

1.4	Gee die volgende ten opsigte van die plaatgrens (rand) verantwoordelik vir die beweging van die twee kontinente in die spotprent: (a) Die naam van die plaatgrens (b) Die soort plaatgrens.	(a) (b)	(2)
1.5	Gee VIER bewyse om die Teorie van Kontinentale Drywing te ondersteun		(5)

[10]

VRAAG 2		Die inligting in die blokkies word gebruik in die vrae wat volg. Hulle verskaf ook die antwoorde op die vrae. Skryf die LETTER van die blokkie(s) neer wat die korrekte antwoord voorstel.	
A		B	
C		D	
E	Himalajas	F	Twee plate gly sywaarts by mekaar verby.
G	Sterk aardbewings, geen vulkaniese uitbarstings nie	H	Twee plate beweeg weg van mekaar af.
I	Oseaniese kors beweeg na kontinentale kors toe.	J	Tussen Nazca-plaat en Suid-Amerikaanse Plaat
K	San Andreas-verskuiwing	L	Vulkaniese eilande. Ligte vulkane en aardbewings.
M	Hewige aardbewings en geweldige vulkaniese uitbarstings	N	Hewige aardbewings. Geen vulkaniese uitbarstings nie
O	Twee plate van kontinentale kors beweeg na mekaar toe.	P	Mid-Atlantiese rif

Skryf dus SLEGS die regte letter in die blokkie by Vraag 2.1 tot 2.14 neer by 2.1 M

2.1	Tussen Afrika-plaat en Suid-Amerikaanse Plaat.		(1)
2.2	Oorsaak van hewige aardbewings in San Francisco.		(2)
2.3	Berge by E word op hierdie manier gevorm.		(1)
2.4	Beskrywing van A.		(1)
2.5	Beskrywing van B.		(1)
2.6	Beskrywing van C.		(1)
2.7	Beskrywing van D.		(1)
2.8	Nuwe oseaniese kors en mid-oseaanriwwe word hier gevorm.		(1)
2.9	Word by J aangetref.		(1)
2.10	N en F is eienskappe van diagram		(1)
2.11	Geen kors word by hierdie plaatgrens gevorm of vernietig nie.		(2)
2.12	As jy 'n land naby plaatgrens D besoek, kan jy verwag.		(1)
2.13	Geen vulkaniese uitbarstings sal by die plaatgrense (rande) en voorkom nie.		(1)

[15]